

ULANGAN AKHIR SEMESTER 2 SEKOLAH MENENGAH PERTAMA (SMP) TAHUN PELAJARAN 2011/2012

LEMBAR SOAL

PAGI

Mata Pelajaran : **Ilmu Pengetahuan Sosial**
Kelas/Semester : IX/2
Hari/Tanggal : Rabu, 21 Maret 2012
Waktu : 10.00 - 12.00 (120 menit)

PETUNJUK UMUM :

1. Tulis nomor Anda pada lembar jawaban komputer (LJK)!
2. Periksalah dan bacalah soal-soal dengan teliti sebelum menjawabnya!
3. Dahulukan menjawab soal-soal yang Anda anggap mudah!
4. Kerjakan pada LJK yang disediakan!
5. Hitamkanlah bulatan pada huruf jawaban yang Anda anggap benar dengan menggunakan pensil 2B!
6. Apabila ada jawaban yang Anda anggap salah maka hapuslah jawaban yang salah tersebut sampai bersih, kemudian hitamkan bulatan pada huruf jawaban lain yang Anda anggap benar!

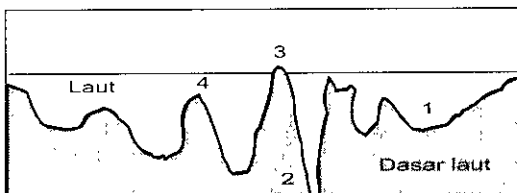
CONTOH :

A. Sebelum dijawab	a <input type="radio"/>	b <input type="radio"/>	c <input type="radio"/>	d <input type="radio"/>
B. Sesudah dijawab	a <input type="radio"/>	b <input checked="" type="radio"/>	c <input type="radio"/>	d <input type="radio"/>
C. Sesudah diperbaiki	a <input type="radio"/>	b <input type="radio"/>	c <input type="radio"/>	d <input checked="" type="radio"/>

PETUNJUK KHUSUS:


Hitamkanlah bulatan pada huruf A, B, C, atau D yang Anda anggap benar pada lembar jawaban!

1. Bentuk muka bumi dasar laut.



Bentuk muka bumi yang diberi angka 3 pada gambar di atas adalah

- | | |
|------------------|----------------|
| A. ambang laut | C. palung laut |
| B. punggung laut | D. gunung laut |



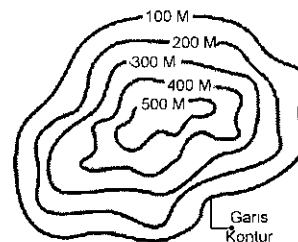
Gambar tersebut merupakan simbol dari

- | | |
|---------------|--------------------|
| A. jalan raya | C. simpang jalan |
| B. sungai | D. arah mata angin |

3. Letak pegunungan dan dataran tinggi di pulau sumatera memanjang dekat dengan pantai barat dan jauh dari pantai timur. Keadaan ini berpengaruh terhadap pola aliran sungai di pulau tersebut yaitu

- A. aliran sungai yang bermuara di pantai barat lebih pendek
- B. aliran sungai yang bermuara di pantai timur lebih jernih
- C. sungai-sungai yang bermuara di pantai timur lebih curam
- D. sungai-sungai yang bermuara di pantai barat lebih besar

4. Peta Topografi.



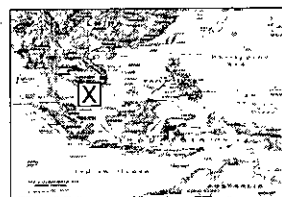
Bentuk muka bumi yang digambarkan pada peta di samping adalah

- A. pegunungan
- B. lereng
- C. bukit
- D. cekungan

5. Secara astronomis kawasan Asia Tenggara terletak pada 280 LU – 110 LS, hal ini menyebabkan kawasan tersebut sebagian besar memiliki iklim

- | | |
|---------------|-----------|
| A. tropis | C. sedang |
| B. sub tropis | D. dingin |

6. Asia Tenggara.



Tanda silang pada peta di samping merupakan....

- A. dataran rendah
- B. semenanjung
- C. kepulauan
- D. gurun pasir

7. Suku bangsa di Asia Tenggara antara lain :

- | | |
|----------|-----------|
| 1. Burma | 5. Lao |
| 2. Shan | 6. Thai |
| 3. Karen | 7. Melayu |
| 4. Khmer | 8. Cina |

Suku bangsa di negara Thailand yaitu

- | | |
|---------------|---------------|
| A. 1, 2 dan 3 | C. 4, 5 dan 6 |
| B. 3, 4 dan 5 | D. 6, 7 dan 8 |

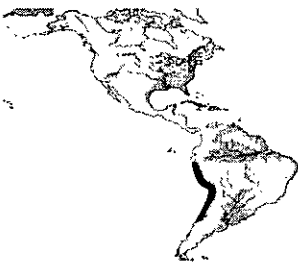
8. Negara-negara di kawasan Asia Tenggara:

- | | |
|--------------|--------------|
| 1. Indonesia | 6. Filipina |
| 2. Malaysia | 7. Singapura |
| 3. Brunai | 8. Vietnam |
| 4. Kamboja | 9. Myanmar |
| 5. Laos | 10. Thailand |

Negara penghasil minyak bumi antara lain

- A. 1, 2 dan 3 C. 5, 6 dan 7
 B. 3, 4 dan 5 D. 8, 9 dan 10
9. Contoh kerjasama bangsa-bangsa Asia Tenggara di bidang ekonomi adalah....
- A. membangun proyek bersama industri mesin diesel di Singapura
 B. memberikan pinjaman kredit jangka pendek dan jangka panjang
 C. turut menyelesaikan masalah ekonomi dalam negara masing-masing
 D. membantu para pedagang kecil dan menengah kawasan Asia Tenggara
10. Proses awal pembentukkan benua adalah
- A. dari awal, benua terdiri atas lima bagian benua
 B. semua daratan terdiri atas benua dan samudera
 C. terdiri dari benua Laurasia dan benua Gondwana
 D. semua benua bergabung menjadi satu, benua Pangea
11. Batas utara benua Afrika adalah
- A. Pegunungan Ural C. Samudera Atlantik
 B. Laut Tengah D. Samudera Hindia

12. Amerika.



Bentang alam Amerika Selatan yang diberi tanda hitam adalah berupa

- A. dataran rendah
 B. gurun pasir
 C. pegunungan
 D. sungai yang berkelok
13. Kawasan Asia Tenggara yang berada di benua Asia memiliki iklim
- A. sedang dan dingin C. tropis dan sub tropis
 B. tropis dan sedang D. panas dan dingin

14. Karakteristik Samudera:

- Diapit oleh benua Amerika dan Asia
- Merupakan samudera terluas
- Dilalui garis tanggal internasional

Karakteristik di atas merupakan kawasan samudera....

- A. Arktik C. Hindia
 B. Atlantik D. Pasifik
15. Salah satu pernyataan di bawah ini tidak termasuk perjuangan diplomasi merebut Irian Barat kembali ke dalam wilayah Indonesia yaitu
- A. Perundingan Anak Agung dan Luns di Den Haag
 B. Mengusulkan di forum PBB agar masalah Irian Barat dibahas dalam sidang Umum PBB
 C. Membentuk pemerintahan sementara di Soa Siu
 D. Pelaksanaan serangan terbuka terhadap kedudukan Belanda di Irian Barat

16. Perhatikan tabel ini!

1	2	3	4
- Infiltrasi - Eksploitasi - Konsolidasi	- Trikora - Komando Mandala - U N C I	- Pepera - Operasi Banteng - Fron Nasional	- Diplomasi - Rencana Bunker - Pepera

Tahapan – tahapan perjuangan yang dilakukan Indonesia dalam operasi pembebasan Irian Barat dari penjajahan Belanda, pada tabel ditunjuk dengan nomor


- A. 1 C. 3
 B. 2 D. 4
17. Perhatikan gambar!



Gambar tokoh ini adalah seorang tokoh yang gugur dalam pertempuran melawan Belanda di Laut Aru, untuk merebut Irian Barat beliau bernama

- A. Komodor Yos Sudarso
 B. Kapten Wiratno
 C. Mayor Jenderal Soeharto
 D. Sudomo
18. Belanda akan menyerahkan Irian Barat kepada Indonesia melalui badan PBB yaitu
- A. ASEAN C. Gerakan Non Blok
 B. UNTEA D. KTN
19. Pada tahun 1948 Partai Komunis Indonesia (PKI) di bawah pimpinan Muso mengadakan pemberontakan di daerah
- A. Jakarta C. Madiun
 B. Jogjakarta D. Surabaya
20. Cara yang digunakan pemerintah Indonesia untuk menumpas pemberontakan DI / TII di Aceh adalah
- A. operasi Banteng
 B. musyawarah
 C. operasi Siliwangi
 D. membubarkan NII
21. Penyebab terjadi pemberontakan Andi Azis di Makasar tahun 1950 adalah
- A. ingin mempertahankan berdirinya negara Pasundan
 B. ingin mendirikan NII
 C. ingin mempertahankan berdirinya negara Indonesia Timur
 D. ingin memisahkan dari negara NKRI

22. Perhatikan gambar.



Tokoh ini Pahlawan Revolusi yang gugur akibat keganasan pemberontakan G. 30 . S / PKI ia bernama

- A. D.I Panjaitan
 B. Sugiono
 C. S. Parman
 D. Ahmad Yani

23. Mayor Jendral Soeharto selaku Panglima Kostrad memerintahkan pasukan dari RPKAD untuk menumpas pemberontakan G. 30 . S / PKI di bawah pimpinan
- Kolonel Sarwo Edhie Wibowo
 - Jendral A. H. Nasution
 - Kolonel Katamso
 - Kolonel Untung Sutopo
24. Kondisi akhir Orde Baru yang ditandai krisis diberbagai bidang telah melahirkan
- gerakan Non Blok
 - konferensi Asia Afrika
 - gerakan Reformasi
 - ASEN
25. Krisis ekonomi di Indonesia terjadi pada masa
- Orde Lama
 - Orde Baru
 - reformasi
 - pembangunan
26. Runtuhnya pemerintahan Orde Baru terjadi pada tanggal 21 Mei 1998 ditandai dengan
- pengunduran diri Soeharto dari jabatan presiden RI
 - pelaksanaan pemilihan umum
 - dibubarkannya PKI
 - dilaksanakannya Tritura.
27. Pengaruh Konferensi Asia Afrika I bagi bangsa – bangsa Asia Afrika adalah
- mendorong meningkatkan perjuangan kemerdekaan bagi bangsa – bangsa Asia – Afrika (terutama di Afrika)
 - memelihara perdamaian dunia internasional
 - membebaskan bangsa – bangsa di dunia dari kemiskinan dan untuk meningkatkan kemakmuran
 - mempercepat pertumbuhan ekonomi, sosial dan kebudayaan
28. Tokoh yang menandatangani Deklarasi Bangkok, dari Filipina bernama
- Adam Malik
 - S. Raja Ratnam
 - Nasisco Ramos
 - Tun Abdul Razak
29. Salah satu contoh sumbangan PBB terhadap Indonesia adalah
- menyelesaikan sengketa antara Indonesia dengan Belanda melalui UNCI
 - memberi kemerdekaan kepada Indonesia
 - membantu berjuang mengalahkan Jepang
 - memberi bantuan senjata untuk perang
30. Peranan Indonesia dalam Gerakan Non Blok adalah
- mengirim Pasukan Garuda ke medan perang
 - memberikan sumbangan dana untuk korban perang
 - menentang berbagai bentuk pakta pertahanan militer
 - penggagas berdirinya Gerakan Non Blok .
31. Proses penyebaran unsur– unsur baru, khususnya yang menyangkut informasi secara mendunia melalui media cetak dan elektronik disebut
- globalisasi
 - penyimpangan sosial
 - pranata ekonomi
 - perubahan tata nilai dan sikap
32. Globalisasi terjadi dari berbagai saluran, salah satunya yaitu
- hidup kebarat - baratan
 - lembaga pendidikan dan ilmu pengetahuan
 - meningkatnya kehidupan yang lebih baik
 - sikap hidup individualistik
33. Dampak negatif globalisasi adalah
- kesenjangan sosial antara simiskin dan sikaya karena adanya persaingan bebas
 - meningkatnya semangat nasionalisasi
 - mengamalkan Pancasila dengan baik
 - menegakkan hukum yang adil
34. Sikap yang tepat untuk mengantisipasi dampak negatif globalisasi adalah
- sikap dinamis selalu tidak berubah mengikuti zaman
 - mengamalkan Pancasila dengan baik, dan menegakkan hukum secara adil.
 - mengamalkan Pancasila dengan baik, dan menjalankan ibadah puasa
 - pola hidup konsumtif
35. **Manfaat kerjasama antar Negara:**
- Terpenuhinya kebutuhan penduduk suatu negara
 - Pendapatan meningkat dengan adanya ekspansi
 - Terjadi transfer Ilmu Pengetahuan dan Teknologi
 - Penerimaan negara meningkat
 - Nilai perdagangan negara meningkat
 - Dapat mempercepat pembangunan ekonomi
- Manfaat kerjasama ekonomi bagi peningkatan kesejahteraan masyarakat adalah
- 1, 2 dan 3
 - 4, 5 dan 6
 - 1, 3 dan 5
 - 2, 4 dan 6
36. **Perhatikan pernyataan berikut ini !**
- Jarak geografis yang tidak sama
 - Perbedaan sumber daya alam
 - Suku dan budaya yang berbeda
 - Perbedaan sumber daya manusia
 - Perbedaan paham politik dan budaya
 - Perbedaan Ilmu Pengetahuan dan Teknologi
- Perbedaan Ilmu Pengetahuan dan Teknologi faktor-faktor penyebab terjadinya kerjasama ekonomi antar negara berdasarkan pernyataan di atas adalah
- 1, 2 dan 3
 - 4, 5 dan 6
 - 1, 3 dan 5
 - 2, 4 dan 6
37. **Perhatikan pernyataan berikut ini :**
- Memperlancar ekspor barang dan jasa
 - Memperlancar impor barang dan jasa
 - Meningkatkan daya saing di pasar dunia
 - Menciptakan keamanan di kawasan Asia
 - Meningkatkan Ilmu Pengetahuan dan Teknologi
 - Menjamin stabilitas keamanan kawasan
- Yang merupakan tujuan diberlakukannya perdagangan bebas ASEAN bagi dunia usaha di Indonesia adalah
- 1, 2 dan 3
 - 1, 3 dan 5
 - 4, 5 dan 6
 - 2, 4 dan 6
38. **Tabel organisasi ekonomi Internasional.**
- | No | I | II | III | IV |
|----|------|----------|---------|-----------|
| 1 | AFTA | 1. ASEAN | 1. OPEC | 1. IBRD |
| 2 | IMF | 2. EEC | 2. ILO | 2. ASEAN |
| 3 | GATT | 3. APEC | 3. FAO | 3. UNINDO |
- Organisasi ekonomi international bidang ekonomi yang bersifat regional adalah
- I
 - II
 - III
 - IV

39. **Hambatan kerjasama Internasional.**

1. Perbedaan tarif ekspor dan impor
2. Adanya pertentangan politik
3. Adanya hambatan quota
4. Adanya konfrontasi militer
5. Perbedaan nilai mata uang
6. Perbedaan letak geografis

Hambatan kerjasama antar negara dalam bidang ekonomi adalah

- A. 1, 2 dan 3 C. 1, 3 dan 5
B. 4, 5 dan 6 D. 2, 4 dan 6

40. **Tabel Organisasi Ekonomi Dunia.**

No	Organisasi
1	CGI (Consultative Group on Indonesia)
2	ADB (Asian Development Bank)
3	IMF (International Monetary Fund)
4	MEE (European Economic Community)
5	EFTA (European Free Trade Association)
6	NAFTA (Nourt American Free Trade Agreement)

Organisasi ekonomi dunia yang penting bagi Indonesia adalah

- A. 1, 2 dan 3 C. 1, 3 dan 5
B. 4, 5 an 6 D. 2, 4 dan 6

41. Perbedaan kerjasama bilateral dengan kerjasama multilateral adalah

- A. kerjasama bilateral terbatas pada kawasan tertentu sedangkan kerjasama multilateral mencakup kawasan yang tidak terbatas
- B. kerjasama bilateral terbatas pada dua negara saja sedangkan multilateral terjadi dengan banyak negara.
- C. kerjasama bilateral terbatas pada bidang tertentu sedangkan kerjasama multilateral mencakup berbagai bidang.
- D. kerjasama bilateral berlaku pada jangkauan tertentu sedangkan multilateral untuk jangka waktu yang tidak terbatas.

42. Organisasi dunia yang menangani bidang perburuhan adalah

- A. ILO (International Labour Organization)
B. FAO (Food and Agricultural)
C. WHO (World Health Organization)
D. UNDP (United Nation Development)

43. 1. Menghilangkan diskriminasi perdagangan
2. Memberikan konsultasi pendidikan perdagangan
3. Memperluas daerah pemasaran
4. Menghilangkan hambatan saing
5. Menghilangkan hambatan bea masuk
6. Mempercepat keluar masuk arus barang dan jasa

Peranan WTO bagi pengembangan ekspor impor Indonesia adalah

- A. 1; 2 dan 3 C. 1, 3 dan 5
B. 4, 5 dan 6 D. 2, 4 dan 6

44. Organisasi dunia di bawah PBB yang banyak membantu musibah bencana alam di Indonesia adalah

- A. UNICEF C. ILO
B. FAO D. UNHCR

45. Tujuan pembentukan OPEC adalah

- A. untuk memperluas daerah eksplorasi dan meningkatkan kapasitas produksi
- B. meningkatkan daya saing negara-negara anggota terhadap negara maju
- C. untuk mengatur quota produksi dan distribusi serta menstabilkan harga
- D. untuk mengendalikan pertumbuhan industri melalui penghematan BBM

46. Faktor-faktor yang dapat menyebabkan tingginya daya saing Indonesia di dunia Internasional adalah

- A. tingginya sumber daya alam dan banyaknya tenaga kerja yang dimiliki
- B. penguasaan Ilmu Pengetahuan dan Teknologi
- C. memiliki modal yang besar dan keamanan yang stabil
- D. jumlah penduduk yang besar dan tenaga ahli yang banyak

47. Dampak positif kerjasama ekonomi antar negara bagi peningkatan produksi dalam negeri adalah

- A. dapat memperluas pasar bagi hasil produksi
- B. meningkatkan tingkat persaingan secara internasional
- C. menjamin ketersediaan bahan bakar dalam jangka panjang
- D. menaikkan tingkat keuntungan akibat perbedaan nilai mata uang

48. **Dampak kerjasama ekonomi Internasional:**

1. Memperluas lapangan kerja
2. Terpenuhinya kebutuhan dalam negeri
3. Memperluas pasar produk dalam negeri
4. Pasar dalam negeri dikuasai produk asing
5. Banyaknya TKI ilegal
6. Meningkatnya perdagangan

Dampak negatif yang ditimbulkan oleh kerjasama internasional bagi masyarakat terutama generasi muda adalah

- A. 1, 2 dan 3 C. 1, 3 dan 5
B. 4, 5 dan 6 D. 2, 4 dan 6

49. Sikap positif yang bisa dilakukan bangsa Indonesia terhadap dampak negatif globalisasi adalah

- A. menentang unsur-unsur baru yang dibawa oleh proses globalisasi
- B. menerima sepenuhnya tanpa mempertimbangkan perbedaan dengan nilai-nilai yang sudah ada
- C. terbuka terhadap nilai-nilai baru tanpa meninggalkan nilai-nilai yang dimiliki
- D. berupaya untuk menutup diri dari pengaruh globalisasi dengan segala resikonya

50. Upaya yang perlu dilakukan guna menghindari sifat konsumtif terhadap produk asing adalah

- A. meningkatkan kualitas produk-produk dalam negeri sehingga dapat bersaing dengan produk-produk asing baik kualitas maupun harga
- B. melakukan pembebasan terhadap produk-produk luar negeri yang masuk ke pasar dalam negeri
- C. mengenakan pajak masuk setinggi-tingginya terhadap produk impor yang diproduksi juga di dalam negeri
- D. memberikan pembebasan terhadap masyarakat dalam membeli produk-produk dalam negeri