



PEMERINTAH PROPINSI DAERAH KHUSUS IBUKOTA JAKARTA
DINAS PENDIDIKAN
SMP NEGERI 231 JAKARTA
Jl. Raya Tugu Semper Cilincing Telp : 021-4400643
JAKARTA UTARA

UJIAN SEKOLAH
TAHUN PELAJARAN 2011-2012

LEMBAR SOAL

Mata Pelajaran : PENDIDIKAN AGAMA KRISTEN
Satuan Pendidikan : Sekolah Menengah Pertama (SMP)
Hari/Tanggal : Senin, 26 Maret 2012
Alokasi Waktu : 10.00 – 11.30 (90 menit)

PETUNJUK UMUM

1. Tulis nomor Anda pada lembar jawaban
2. Periksalah dan bacalah soal-soal dengan teliti sebelum Anda menjawabnya
3. Dahulukan menjawab soal-soal yang Anda anggap mudah
4. Kerjakan pada lembar jawaban yang disediakan
5. Hitamkan kotak pada huruf jawaban yang Anda anggap benar dengan memakai pensil **2B**
6. Apabila ada jawaban yang akan diganti, hapuslah jawaban yang salah dengan karet penghapus sampai bersih, kemudian isi dengan jawaban yang Anda anggap benar.

Contoh :

- | | | | | |
|-----------------------|-----------------------|----------------------------------|-----------------------|----------------------------------|
| a. Sebelum di jawab | <input type="radio"/> | <input type="radio"/> | <input type="radio"/> | <input type="radio"/> |
| b. Sesudah di jawab | <input type="radio"/> | <input checked="" type="radio"/> | <input type="radio"/> | <input type="radio"/> |
| c. Sesudah diperbaiki | <input type="radio"/> | <input type="radio"/> | <input type="radio"/> | <input checked="" type="radio"/> |

PETUNJUK KHUSUS :

Soal No 1 s.d 50 hitamkanlah bulatan pada huruf a, b, c, atau d yang Anda anggap benar pada lembar jawaban, dan untuk Soal Essay nomor 51 s.d 55 kerjakan dengan benar !

1. Salahsatu keistimewaan manusia dari ciptaan Allah yang lainnya adalah
 - a. Manusia memiliki keturunan
 - b. Manusia memiliki hubungan dengan Allah
 - c. Manusia memiliki pekerjaan
 - d. Manusia memiliki kuasa atas dunia
2. Allah menciptakan manusia menurut gambar dan rupa Allah itu berarti
 - a. Manusia memiliki wajah Allah
 - b. Manusia menyerupai Allah
 - c. Manusia memiliki citra Allah
 - d. Manusia segambar dengan Allah
3. Salahsatu contoh tanggung jawab manusia sebagai gambar dan rupa Allah adalah ...
 - a. Mengelola alam dan mengambil hasilnya untuk kepentingan pribadi
 - b. Bekerja keras untuk mencukupi kebutuhannya siang dan malam
 - c. Mengambil hasil alam untuk kepentingan kelompoknya
 - d. Mengelola, mengusahakan dan memelihara alam ini

4. Contoh tanggung jawab anak sebagai gambar dan rupa Allah dalam keluarga :
 - a. Patuh dan hormat pada orang tua serta menjaga nama baik keluarga
 - b. Patuh pada peraturan lalulintas
 - c. Patuh pada peraturan di sekolah
 - d. Patuh pada undang-undang yang berlaku dalam masyarakat

5. Tugas yang diberikan Allah kepada manusia menurut kitab kejadian 1 : 26 – 28 antara lain :
 - a. Berkuasa atas sesamanya dan menaklukkannya
 - b. Bekerja keras mencari nafkah seumur hidupnya
 - c. Beranak cucu, bertambah banyak dan penuhi bumi
 - d. Mengusahakan alam ini dan mengambil hasilnya untuk kepentingan pribadinya.

6. Tugas yang diberikan Allah kepada manusia menurut kitab kejadian 2 : 15 adalah
 - a. Menjaga semua ciptaan Allah
 - b. Mengawasi semua kelangsungan hidup ciptaan Allah
 - c. Meningkatkan kesejahteraan anggota keluarganya
 - d. Mengusahakan dan memelihara alam ini

7. Kemampuan yang diberikan Allah kepada manusia untuk berkarya sesuai dalam kitab Matius 25 : 14 – 30 adalah
 - a. Mampu bekerja sama dengan orang lain
 - b. Mampu memuji Tuhan dengan suara yang baik
 - c. Mampu mengembangkan talenta yang diberikan Tuhan dengan penuh tanggung jawab
 - d. Mampu memimpin ibadah dalam kelompoknya

8. Penyebab jatuhnya manusia ke dalam dosa :
 - a. Keinginan menjadi sama seperti Allah
 - b. Keinginan untuk menguasai sesamanya
 - c. Keinginan untuk menguasai bumi
 - d. Keinginan untuk yang terbaik dari semua ciptaan Allah

9. Hukuman yang diberikan Allah kepada Adam atas dosanya, antara lain:
 - a. Bersusah payah dalam membina anak-anaknya
 - b. Bersusah payah dalam membimbing istrinya
 - c. Bersusah payah mencari rezeki seumur hidup
 - d. Bersusah payah dalam mengandung sangat banyak

10. Hidup bersyukur sesuai iman kristiani berarti
 - a. Berterima kasih kepada Tuhan ketika mengalami keberhasilan
 - b. Berterima kasih kepada Tuhan dalam segala keadaan, baik suka maupun duka, baik dalam keberhasilan maupun ketika mengalami kegagalan
 - c. Beribadah dengan sungguh kepada Tuhan ketika mengalami kesembuhan dari penyakit
 - d. Mengucapkan ucapan syukur kapan saja dan dimana saja

11. Salahsatu alasan manusia bersyukur kepada Tuhan adalah ...
 - a. Karena hidup tanpa bersyukur tidak berarti
 - b. Karena bersyukur membuat manusia tenang
 - c. Karena bersyukur adalah yang terbaik dalam hidup ini
 - d. Karena memang harus demikian sesuai firman Tuhan

12. Raja Daud mengajak manusia untuk bersyukur kepada Tuhan sesuai dalam kitab Mazmur 139 : 14 adalah
 - a. Karena kejadian manusia dahsyat dan ajaib
 - b. Karena keberhasilan yang diperoleh
 - c. Karena tanpa ucapan syukur hidup ini tidak sempurna
 - d. Karena bersyukur membawa kebahagiaan

13. Seorang yang bersyukur sesuai dalam kitab Lukas 17 : 11 – 19
 - a. Orang yang buta sejak dari kandungan ibunya
 - b. Orang yang kerasukan setan yang bernama Legion
 - c. Orang Samaria yang sembuh dari penyakit kusta
 - d. Seorang perwira di Kapernaum

14. Perbuatan berikut yang tidak termasuk cara-cara untuk mensyukuri hidup :
- Menolong sesama yang membutuhkan sesuai kemampuan yang dimiliki
 - Belajar terus menerus tanpa istirahat sebagai bekal masa depan
 - Melayani Tuhan dan sesama dengan sungguh-sungguh
 - Mempergunakan waktu sebaik-baiknya serta mengisinya dengan aktivitas yang memuliakan Tuhan
15. Perbuatan berikut yang termasuk wujud hidup bersyukur manusia kepada Allah
- Belajar sungguh-sungguh karena dikontrol orang tua
 - Membantu sesama karena ingin dipuji
 - Bekerja tanpa lelah karena ingin cepat kaya
 - Aktif dalam pelayanan sesuai talenta yang dimiliki
16. Salahsatu contoh perkataan yang membangun orang lain :
- Hari ini Anda gagal dan besokpun Anda pasti gagal
 - Anda berhasil sekarang, besok belum tentu
 - Hari ini Anda gagal, tapi besok Anda pasti berhasil, jangan menyerah sebelum Anda berhasil
 - Kesempatan emas hanya datang sekali dan Anda telah gagal mendapatkannya
17. Tokoh Alkitab yang memiliki sikap hati yang baik meskipun mendapat perlakuan kurang baik dari saudara – saudaranya:
- Yusuf
 - Yakub
 - Esau
 - Musa
18. Sesuai iman kristen, manusia berbuat baik adalah
- Untuk mendapat pujian dari orang lain
 - Sebagai ungkapan syukur kepada Tuhan karena sudah diselamatkan di dalam Yesus Kristus
 - Untuk mendapat keselamatan dalam kerajaan sorga
 - Untuk mendapat berkat jasmani dan rohani
19. Kata "Golgota" berarti
- Penderitaan
 - Kesengsaraan
 - Penyelamatan
 - Tempat tengkorak
20. 1. Lahir di kandang domba
2. di olok-olok
3. diancam mau dibunuh Herados
4. di ludahi
5. di larikan ke Mesir
6. di tolak di Nazaret
Pernyataan di atas yang termasuk penderitaan Yesus pada saat kelahirannya terdapat pada :
- 1, 2, 4
 - 2, 3, 5
 - 1, 3, 5
 - 3, 4, 6
21. Makna ucapan Yesus yang pertama ketika di kayu salib adalah
- Mengasihi Tuhan dan sesama dengan segenap hati
 - Mengampuni orang yang berbuat jahat kepada kita
 - Menghakimi semua orang berdosa
 - Membalas kebaikan dengan kejahatan
22. Menurut tradisi Romawi, orang-orang yang pantas disalibkan adalah
- Pembunuh dan pemberontak
 - Para penyembah berhala dan yang melawan kaisar
 - Para penjahat dan pembuat huru hara
 - Jawaban a dan c yang benar

23. Makna salib bagi orang yang percaya kepada Yesus Kristus adalah
- Ditebus dari hukuman dosa dan diperdamaikan dengan Allah
 - Dibenarkan karena iman dan hidup dalam pengharapan
 - Pernyataan a dan b yang benar
 - Meninggalkan segala kejahatan dan memikul salib setiap harinya
24. Keadaan wajib menanggung segala sesuatunya, kalau terjadi sesuatu boleh di tuntutan, dipersalahkan dan diperkarakan. Pernyataan tersebut merupakan pengertian dari :
- Pelayanan
 - Pertobatan
 - Penggembalaan
 - Tanggung jawab
25. Salahsatu bentuk tanggung jawab remaja Kristen dalam masyarakat :
- Bekerjasama dengan remaja Kristen yang ada
 - Ikut serta dalam usaha menjalin persatuan dalam masyarakat yang majemuk
 - Menjalin hubungan baik dengan anggota gereja sendiri
 - Beribadah bersama dengan anggota keluarga
26. Seseorang dikatakan lari dari tanggung jawab berarti
- Tidak melakukan tugas apa yang seharusnya dia laksanakan
 - Memberi tugas bersama kelompoknya
 - Membuat pembagian tugas sesuai kemampuannya
 - Tidak mampu bekerjasama dengan tim yang ada
27. Tokoh Alkitab yang pernah lari dari tanggung jawab :
- Musa
 - Yosua
 - Yusuf
 - Yunus
28. Seorang pelajar mengambil sikap lari dari tanggung jawab karena
- Tidak mengetahui atau tidak mempunyai tujuan
 - Memiliki ambisi yang kuat untuk berhasil
 - Sadar akan tugasnya sebagai siswa yang terpimpin
 - Memahami dengan baik dunia remaja
29. Manusia sering tergoda untuk menghindar dari tanggung jawab karena tekanan lingkungan. Contoh tekanan tersebut adalah
- Kita hidup dan lingkungan mencukupi segalanya
 - Kita mau melakukan dan mengatakan yang benar tetapi lingkungan justru mengucilkan kita
 - Kita mau hidup bahagia dan lingkungan memberi kemungkinan itu
 - Kita rajin pergi ke sekolah dan lingkungan mencukupi sarana yang kita butuhkan
30. Hal-hal yang dapat dilakukan remaja Kristen sebagai wujud tanggung jawab terhadap diri sendiri adalah
- Menjauhkan diri dari pergaulan bebas dan obat-obatan terlarang
 - Menghormati orang lain yang berbeda pendapat
 - Peka terhadap kebutuhan orang lain
 - Hidup berdamai dengan semua orang
31. Perbuatan yang bertanggung jawab terhadap sesama yang dapat dilakukan remaja Kristen adalah
- Memberi pertolongan pada siapa saja yang membutuhkannya
 - Memberi bantuan kepada yang seiman saja
 - Menolong korban bencana alam serta membuang sampah pada tempatnya
 - Jawaban a dan c benar
32. Hampir tidak ada pekerjaan yang bisa kita selesaikan sendiri tanpa bantuan orang lain karena itu kita perlu membangun komunikasi yang baik dengan orang lain. Hal berikut yang tidak termasuk antara lain :
- Terbuka untuk di kritik dan dikoreksi orang lain
 - Meminta pendapat orang lain
 - Memperjuangkan sendiri apa yang menjadi haknya
 - Berdiskusi untuk memecahkan suatu persoalan

33. Salahsatu contoh sikap rendah hati yang perlu dibangun dalam mayarakat antara lain :
 - a. Memberi salam pada warga yang seiman saja
 - b. Saling mendahului dalam memberi hormat atau salam
 - c. Ramah terhadap warga masyarakat yang memang juga ramah terhadapnya
 - d. Menghargai warga masyarakat pada kelompok tertentu saja
34. Istilah gereja dalam Perjanjian Lama (PL) dalam bahasa Ibrani adalah Qahal yang berarti
 - a. Memanggil atau mengumpulkan
 - b. Dipanggil keluar
 - c. Keluar dari kegelapan dosa
 - d. Kepunyaan Allah atau milik Allah
35. Istilah gereja dalam Perjanjian Baru (PB) dalam bahasa Yunani adalah Eklesia yang berarti
 - a. Milik Allah
 - b. Dipanggil keluar (dari kegelapan dosa)
 - c. Persekutuan orang percaya
 - d. Tempat / gedung ibadah
36. Gereja pertama lahir adalah
 - a. Abad ke-8 sebelum masehi
 - b. Abad ke-2
 - c. Pada perayaan Pentaskosta atau hari kelimpuluh setelah kebangkitan Tuhan Yesus
 - d. Abad pertengahan sekitar tahun 500 – 1000 masehi
37. Yang memanggil dan yang mempersatukan semua orang percaya kepada Yesus Kristus adalah
 - a. Allah sendiri
 - b. Paa pendeta
 - c. Semua jemaat
 - d. Gembala sidang
38. Yang menjadi sumber dan dasar persekutuan orang percaya adalah
 - a. Gereja
 - b. Yesus Kristus
 - c. Gembala sidang
 - d. Tata ibadah
39. Contoh pelayanan kepada sesama :
 - a. Memberi bantuan kepada yang membutuhkan sesuai kemampuan yang ada
 - b. Mengumpulkan bantuan kepada yang mengalami bencana alam khusus bagi kelompok tertentu
 - c. Mengunjungi orang sakit tanpa memandang perbedaan
 - d. Jawaban a dan c yang benar
40. Salah satu Tri Tugas Gereja adalah marturia yang artinya
 - a. Menjalin persekutuan diantara sesama jemaat dan dengan gereja lainnya
 - b. Memberikan pengajaran terhadap jemaat
 - c. Memberitakan kabar baik, kabar suka cita mengabarkan Injil ke berbagai penjuru
 - d. Memberi bantuan bagi fakir miskin
41. Pernyataan di bawah ini yang tidak termasuk sifat gereja yang Kudus adalah
 - a. Warga gereja terdiri dari orang-orang Kudus atau suci
 - b. Gereja di kuduskan oleh Roh Kudus
 - c. Gereja dikuduskan oleh pengorbanan Yesus Kristus
 - d. Gereja terdiri dari orang-orang berdosa yang dikuduskan Allah
42. Hal di bawah ini yang tidak termasuk sifat gereja yang Am adalah
 - a. Gereja itu satu karena disatukan Yesus Kristus
 - b. Gereja tidak terbatas pada golongan tertentu
 - c. Gereja tidak membeda-bedakan orang berdasarkan latar belakangnya
 - d. Gereja tidak memandang orang berdasarkan status sosialnya

43. Salahsatu sifat gereja adalah Esa yang atinya
- Gereja melayani hanya untuk kalangan tertentu
 - Gereja khususnya melayani orang-orang terasing dalam masyarakat
 - Gereja itu satu sebagai persekutuan orang yang percaya kepada Yesus Kristus sebagai Tuhan dan juru selamat serta Yesus lah kepada gereja
 - Gereja itu dikuduskan oleh kuasa darah Yesus Kristus
44. Salahsatu tujuan mendirikan gerakan Oikumene adalah
- Untuk menyatukan tata ibadah dalam gereja
 - Untuk mengurangi berdirinya gereja-gereja baru
 - Untuk menyatukan tata gereja dan disiplin gereja
 - Untuk mewujudkan keesaan gereja sehingga tercipta kerjasama antar gereja dalam berbagai hal
45. Tempat orang yang percaya kepada Yesus Kristus menyebit dirinya Kristen adalah
- Antiokia
 - Samaria
 - Yerusalem
 - Efesus
46. Salah satu contoh program dalam bidang Koinonia adalah
- Mengadakan penginjilan ke desa-desa
 - Mengunjungi orang-orang sakit di rumah sakit
 - Mengadakan lomba kuis Alkitab
 - Mengadakan kebaktian kebangunan rohani (KKR) dengan berbagai denominasi gereja-gereja
47. Contoh tugas yang dapat dilakukan remaja Kristen saat ibadah adalah
- Membawakan renungan (berkhotbah)
 - Membacakan warta jemaat
 - Menjalankan kantong persembahan (kolekte)
 - Memimpin puji-pujian dalam ibadah umum
48. Sikap di bawah ini yang tidak termauk sikap yang benar pada saat ibadah
- Penuh hormat dan tenang
 - Tenang sambil membaca novel yang sangat disukai
 - Tenang dan konsentrasi
 - Rendah hati dan penuh perhatian
49. Penggerak utama agama Kristen pada abad pertama adalah
- Kaum proselit
 - Para ahli Taurat
 - Rasul Paulus dan teman-temannya
 - Para biarawan
50. Hal berikut yang tidak termasuk tiga azas gereja adalah
- Kanon, yaitu patokan mengenai kitab PL dan PB yang diterima sebagai dasar iman gereja
 - Jabatan uskup, untuk menjaga ajaran gereja yang benar
 - Pengakuan iman, ajaran resmi gereja sebagai pegangan bagi setiap jemaat dalam membangun imannya
 - Tata ibadah gereja untuk pegangan dalam melaksanakan ibadah

ESSAY

- Tuliskan pengertian dosa menurut Alkitab !
- Sesuai ajaran Kristen yang ada dalam Alkitab, pada saat apa saja manusia bersyukur kepada Tuhan ?
- Tuliskan sedikitnya 3 alasan Yunus lari dari tanggung jawab !
- Tuliskan isi Pemanat Agung Tuhan Yesus sesuai dalam kitab Matius 28 : 19 – 20 !
- Tuliskan Tri Tugas gereja dan berikan penjelasan !



PEMERINTAH PROPINSI DAERAH KHUSUS IBUKOTA JAKARTA
DINAS PENDIDIKAN
SMP NEGERI 231 JAKARTA
JL. Raya Tugu Semper Cilincing Telp : 021- 4400643
JAKARTA UTARA

UJIAN SEKOLAH
TAHUN PELAJARAN 2011-2012

LEMBAR SOAL

Mata Pelajaran : PKn
Satuan Pendidikan : Sekolah Menengah Pertama (SMP)
Hari/Tanggal : Selasa, 27 Maret 2012
Alokasi Waktu : 10.00 – 11.30 (90 menit)

PETUNJUK UMUM

1. Tulis nomor Anda pada lembar jawaban
2. Periksalah dan bacalah soal-soal dengan teliti sebelum Anda menjawabnya
3. Dahulukan menjawab soal-soal yang Anda anggap mudah
4. Kerjakan pada lembar jawaban yang disediakan
5. Hitamkan kotak pada huruf jawaban yang Anda anggap benar dengan memakai pensil **2B**
6. Apabila ada jawaban yang akan diganti, hapuslah jawaban yang salah dengan karet penghapus sampai bersih, kemudian isi dengan jawaban yang Anda anggap benar.

Contoh :

- | | | | | |
|-----------------------|-----------------------|----------------------------------|-----------------------|----------------------------------|
| a. Sebelum di jawab | <input type="radio"/> | <input type="radio"/> | <input type="radio"/> | <input type="radio"/> |
| b. Sesudah di jawab | <input type="radio"/> | <input checked="" type="radio"/> | <input type="radio"/> | <input type="radio"/> |
| c. Sesudah diperbaiki | <input type="radio"/> | <input type="radio"/> | <input type="radio"/> | <input checked="" type="radio"/> |

PETUNJUK KHUSUS :

Soal No 1 s.d 50 hitamkanlah bulatan pada huruf a, b, c, atau d yang Anda anggap benar pada lembar jawaban, dan untuk Soal Essay nomor 51 s.d 55 kerjakan dengan benar !

1. Pentingnya norma-norma dalam masyarakat adalah, agar kehidupan masyarakat
 - a. aman dan layak
 - b. disiplin dan makmur
 - c. tertib dan tentram
 - d. tercukupi sandang dan pangan
2. Perhatikan gambar berikut !



Sebelum masuk kelas siswa-siswi selalu bersalaman dengan gurunya, hal ini sesuai dengan norma

- a. hukum
- b. kesopanan
- c. kesusilaan
- d. agama

3. Perhatikan gambar berikut !



Perilaku yang dilakukan oleh pelajar yang terdapat dalam gambar di atas melanggar norma hukum, dan bertentangan dengan UUD 1945 pasal

- a. 26 ayat 1
- b. 27 ayat 1
- c. 29 ayat 2
- d. 30 ayat 1

4. Perhatikan pernyataan berikut :

1. Lahirnya negara republik Indonesia
2. Berakhirnya tata hukum kolonial
3. Hancurnya pemerintahan Jepang
4. Berlakunya tata hukum nasional

Arti penting Proklamasi bagi bangsa Indonesia ditunjukkan pernyataan nomor

- a. 1, 2, 3
- b. 1, 2, 4
- c. 1, 3, 4
- d. 2, 3, 4

5. Pernyataan :

1. Memilih dan mengangkat presiden dan wakil presiden
2. Mengesahkan dasar negara
3. Mengangkat menteri negara
4. Membentuk BP-KNIP

Dari pernyataan di atas yang merupakan hasil sidang PPKI tanggal 18 Agustus 1945 ditunjukkan nomor ...

- a. 1, 2, 3
- b. 1, 2, 4
- c. 1, 3, 4
- d. 2, 3, 4

6. Pernyataan :

1. Mempertahankan kemerdekaan
2. Menikmati hasil pembangunan
3. Menghormati jasa pahlawan
4. Mengisi kemerdekaan dengan pembangunan

Dari pernyataan di atas kewajiban dan tanggung jawab warganegara yang menyampaikan pendapat dimuka umum ditunjukkan nomor

- a. 1, 2, 3
- b. 1, 2, 4
- c. 1, 3, 4
- d. 2, 3, 4

11. Nilai-nilai Pancasila merupakan suatu dasar nilai serta norma untuk mengatur pemerintahan negara merupakan pengertian dari Pancasila sebagai

- a. Idiologi negara
- b. Dasar negara
- c. Pandang hidup bangsa
- d. Sumber hukum

12. Perhatikan kolom berikut :

1	2	3	4
- Sumber hukum - Demokrasi Indonesia	- Idiologi negara - Pandanga hidup bangsa	- Dasar negara - Sumber hukum	- Cita-cita rakyat Indonesia - Kebanggaan Indonesia

Dari kolom di atas, yang berisi fungsi Pancasila bagi bangsa Indonesia terdapat pada kolom

- a. 1 dan 2
- b. 1 dan 3
- c. 2 dan 3
- d. 3 dan 4


13. Pernyataan :

- 1. Mengembangkan sikap tenggang rasa dan tepa selira
- 2. Berani membela kebenaran dan keadilan
- 3. Memelihara kebiasaan gotong royong
- 4. Tidak semena-mena terhadap orang lain

Nilai-nilai yang terkandung dalam sila ke dua dari Pancasila ditunjukkan pada nomor ...

- a. 1, 2 dan 3
- b. 1, 2 dan 4
- c. 1, 3 dan 4
- d. 2, 3 dan 4

14. Perhatikan Gambar berikut !



Gambar di atas adalah upacara pengibaran bendera peringatan 17 Agustus, kegiatan tersebut mencerminkan pengamalan Pancasila, sila ke

- a. Dua
- b. Tiga
- c. Empat
- d. Lima

Dari pernyataan di atas sikap setia terhadap proklamasi kemerdekaan RI ditunjukkan nomor ...

- a. 1, 2, 3
- b. 1, 2, 4
- c. 1, 3, 4
- d. 2, 3, 4

7. Pernyataan :

- 1. perilaku tidak adil
- 2. diskriminatif
- 3. status sosial
- 4. taat pada perauran

Dari pernyataan di atas yang menentukan latar belakang lahirnya perundangan HAM ditunjukkan nomor ...

- a. 1, 2, 3
- b. 1, 2, 4
- c. 1, 3, 4
- d. 2, 3, 4


8. Perhatikan kolom berikut :

1	2	3	4
- Pemantauan - Klarifikasi perkara	- Perlindungan masyarakat - Rekontruksi pelanggaran	- Pengkajian dan penelitian - Penyuluhan	- Pemantauan - Mediasi

Dari kolom di atas, yang berisi fungsi komnas HAM terdapat pada kolom

- a. 1 dan 2
- b. 1 dan 3
- c. 2 dan 3
- d. 3 dan 4

9. Perhatikan gambar di bawah ini !



Gambar menyampaikan pendapat dimuka umum ini merupakan kemerdekaan mengeluarkan pendapat dengan bertanggung jawab, yang sesuai dengan UUD 1945 pasal

- a. 26 ayat 1
- b. 27 ayat 1
- c. 28 ayat 1
- d. 29 ayat 1

10. Pernyataan :

- 1. Menghormati aturan moral yang diakui umum
- 2. Menjaga keamanan dan ketertiban umum
- 3. Mengutamakan kepentingan orang lain
- 4. Menjaga keutuhan dan kesatuan bangsa

15. Contoh sikap positif dalam mengembangkan sila kelima dalam kehidupan masyarakat adalah ...
- Tidak memaksakan suatu agama pada orang lain
 - Memelihara kegiatan gotong royong
 - Tidak semena-nema kepada orang lain
 - Bangga bertanah air dan berbangsa Indonesia

16. Pernyataan :
- UUD RIS
 - UUD 1945
 - UUD Sementara 1950
 - UUD Gotong Royong

Konstitusi yang pernah berlaku di Indonesia ditunjukkan oleh nomor

- 1, 2 dan 3
- 1, 2 dan 4
- 1, 3 dan 4
- 2, 3 dan 4

17. Pernyataan :
- Mentri negara tidak bertanggung jawab kepada presiden
 - Mentri negara diangkat dan diberhentikan oleh presiden
 - Presiden adalah kepala pemerintahan
 - Presiden mengangkat duta dan konsul

Dari pernyataan di atas ciri-ciri pemerintahan Presidensial ditunjukkan nomor

- 1, 2, 3
- 1, 2, 4
- 1, 3, 4
- 2, 3, 4

18. Pernyataan :
- Merugikan bangsa dan negara
 - Kian banyak masyarakat yang miskin
 - Persatuan dan kesatuan akan pudar
 - Barang dan jasa semakin mahal

Dari pernyataan di atas yang menunjukkan alasan mengapa korupsi perlu diberantas ditunjukkan nomor

- 1, 2, 3
- 1, 2, 4
- 1, 3, 4
- 2, 3, 4

19. Pernyataan :
- UUD 1945
 - Keputusan Presiden
 - UU/Perpu
 - Peraturan Pemerintah
 - Intruksi Presiden

Tata urutan yang tepat perundang-undangan RI menurut UU no.10 tahun 2004 adalah ...

- 1, 2 dan 3
- 1, 2 dan 4
- 1, 3 dan 4
- 2, 3 dan 5

20. Hakikat demokrasi Pancasila adalah ...

- Paham demokrasi yang bersumber pada kepribadian dan falsafah hidup bangsa Indonesia
- Paham dalam menjalankan kekuasaan pemerintahan yang didasari adat istiadat
- Paham pelaksanaan pemilihan umum pemerintah berdasarkan jujur dan adil
- Paham kekuasaan tertinggi yang di pegang oleh rakyat

21. Pernyataan :

- Adanya pelaksanaan hukum
- Memberikan jaminan HAM
- Adanya prinsip mayoritas suara
- Adanya kebebasan pers
- Partisipasi rakyat dalam pembangunan

Ciri negara demokrasi ditunjukkan oleh nomor ...

- 1, 2 dan 3
- 1, 2 dan 4
- 1, 3 dan 4
- 2, 3 dan 5

22. Contoh pelaksanaan demokrasi di lingkungan masyarakat antara lain

- Menghargai perbedaan yang ada di sekolah
- Mau mendengar saran dari orang lain
- Mengutamakan kewajiban dari pada hak
- Ikut aktif dalam kegiatan diskusi kelas

23. Contoh kedaulatan ke dalam yang dilakukan bangsa Indonesia antara lain ...

- Membangun jembatan dengan menggunakan tenaga ahli dari Jepang
- Mengirimkan pasukan kontingen Garuda dalam misi perdamaian dunia
- Pihak asing diberi keleluasaan dalam mengelola sumber daya alam yang ada
- Melaksanakan pembangunan di segala bidang tanpa campur tangan pihak asing

24. Data :

- DPR
- DPA
- MPR
- Jaksa Agung
- Presiden

Lembaga negara Republik Indonesia yang diatur dalam UUD 1945 ditunjukkan oleh nomor ...

- 1, 2 dan 3
- 1, 3 dan 5
- 2, 3 dan 5
- 3, 4 dan 5

25. Perhatikan tabel berikut :

1	2	3	4
1. Peradilan	1. Menyatakan perang	1. Mengesahkan RAPBN	1. Mengangkat Duta
2. Membuat UU	2. Memberi grasi	2. Mengangkat Duta	2. Mengangkat menteri Negara
3. Memberi gelar	3. Mengajukan RAPBN	3. Memilih anggota DPR	3. Menerima tamu negara

Pemegang kekuasaan eksekutif ditunjukkan pada kolom :

- 1 dan 2
- 1 dan 3
- 2 dan 3
- 2 dan 4

26. Yang dimaksud dengan pembelaan negara adalah
- Semangat juang para pahlawan guna merebut kemerdekaan dari tangan penjajahan
 - Melakukan suatu usaha untuk memajukan negara Indonesia dari ketinggalan teknologi dunia
 - upaya mempertahankan eksistensi keberadaan wilayah negara yang dilakukan oleh setiap warga negara.
 - Kewajiban bagi seluruh rakyat Indonesia untuk merebut kemerdekaan yang telah dirampas oleh bangsa penjajah


27. Perhatikan Gambar berikut !



Pada gambar di atas merupakan salah satu contoh membela negara, hal ini sesuai dengan UUD 1945 pasal

- 27 ayat 3
- 29 ayat 1
- 30 ayat 2
- 31 ayat 1

28.



Berdasarkan gambar di atas Komponen utama pertahanan negara dinegara Indonesia adalah

- Rakyat
 - TNI dan POLRI
 - Pertahanan sipil
 - Menwa dan wanra
29. Pernyataan :
- Tidak membedakan suku dalam bergaul
 - Menjaga keamanan dilingkungan tempat tinggal
 - Mempunyai cita-cita menjadi TNI atau Polisi
 - Mematuhi norma-norma yang berlaku

Dari pernyataan di atas yang termasuk bela negara di lingkungan masyarakat di tunjukkan oleh nomor ...

- 1, 2 dan 3
- 1, 2 dan 4
- 1, 3 dan 4
- 2, 3 dan 4

26. Yang dimaksud dengan pembelaan negara adalah
- Semangat juang para pahlawan guna merebut kemerdekaan dari tangan penjajahan
 - Melakukan suatu usaha untuk memajukan negara Indonesia dari ketinggalan teknologi dunia
 - upaya mempertahankan eksistensi keberadaan wilayah negara yang dilakukan oleh setiap warga negara.
 - Kewajiban bagi seluruh rakyat Indonesia untuk merebut kemerdekaan yang telah dirampas oleh bangsa penjajah

27. Perhatikan Gambar berikut !



Pada gambar di atas merupakan salah satu contoh membela negara, hal ini sesuai dengan UUD 1945 pasal

- 27 ayat 3
- 29 ayat 1
- 30 ayat 2
- 31 ayat 1

28.



Berdasarkan gambar di atas Komponen utama pertahanan negara dinegara Indonesia adalah

- Rakyat
- TNI dan POLRI
- Pertahanan sipil
- Menwa dan wanra

29. Pernyataan :

- Tidak membedakan suku dalam bergaul
- Menjaga keamanan dilingkungan tempat tinggal
- Mempunyai cita-cita menjadi TNI atau Polisi
- Mematuhi norma-norma yang berlaku

Dari pernyataan di atas yang termasuk bela negara di lingkungan masyarakat di tunjukkan oleh nomor ...

- 1, 2 dan 3
- 1, 2 dan 4
- 1, 3 dan 4
- 2, 3 dan 4

30. Pernyataan :
1. untuk mempertahankan negara dari berbagai ancaman
 2. untuk menjaga keutuhan wilayah negara
 3. merupakan warisan dari para pahlawan
 4. merupakan kewajiban setiap warga Negara

Dari pernyataan di atas yang termasuk menentukan pentingnya bala negara ditunjukkan oleh nomor ...

- a. 1, 2 dan 3
- b. 1, 2 dan 4
- c. 1, 3 dan 4
- d. 2, 3 dan 4

31. Pernyataan :
1. Berani membela kebenaran dan keadilan
 2. Melaporkan kepada yang berwajib bila ada tindakan teror
 3. Ikut membela negara bila terjadi agresi dari luar
 4. Meminta bantuan kepada negara AS bila di serang musuh

Dari pernyataan di atas yang termasuk sikap yang perlu dilakukan terhadap pihak-pihak yang ingin menghancurkan NKRI ditunjukkan oleh nomor ...

- a. 1, 2 dan 3
- b. 1, 2 dan 4
- c. 1, 3 dan 4
- d. 2, 3 dan 4

32. Wewenang untuk mengatur sendiri pemerintahan dan kepentingan masyarakat sesuai dengan perundang-undangan merupakan pengertian dari ...
- a. Desentralisasi
 - b. Daerah otonom
 - c. Otonomi daerah
 - d. Dekonsentrasi

33. Perhatikan pernyataan di bawah ini :
1. Politik luar negeri
 2. Moneter dan fiskal
 3. Agama
 4. Pendidikan
 5. Penanganan bidang kesehatan

Pernyataan di atas yang merupakan kewenangan pemerintah pusat dalam otonomi daerah adalah nomor ...

- a. 1, 2 dan 3
- b. 1, 3 dan 5
- c. 2, 3 dan 4
- d. 3, 4 dan 5

34. Pernyataan :
1. UU No. 30 Tahun 2003
 2. UU No. 28 Tahun 2004
 3. UU No. 22 Tahun 1999
 4. UU No. 32 Tahun 2004
 5. UUD 1945 pasal 18

Pernyataan di atas yang merupakan Dasar hukum pelaksanaan otonomi daerah adalah nomor ...

- a. 1, 2 dan 3
- b. 1, 3 dan 5
- c. 2, 3 dan 4
- d. 3, 4 dan 5

35. Pernyataan :

1. Meningkatkan kemakmuran rakyat daerah tersebut
2. Adanya harapan bantuan dari pemerintahan pusat
3. Mendorong guna memberdayakan masyarakat
4. Pengembangan kehidupan demokrasi

Tujuan otonomi daerah ditunjukkan pada nomer ...

- a. 1, 2 dan 3
- b. 1, 2 dan 4
- c. 1, 3 dan 4
- d. 2, 3 dan 4

36. Pernyataan :

1. Fungsi Anggaran
2. Fungsi Legislasi
3. Fungsi Parlemerter
4. Fungsi Pengawasan

Tujuan otonomi daerah ditunjukkan pada nomer ...

- a. 1, 2 dan 3
- b. 1, 2 dan 4
- c. 1, 3 dan 4
- d. 2, 3 dan 4

37. Penyerahan wewenang, hak pemerintahan oleh pemerintah kepada daerah otonom untuk mengatur dan mengurus urusan pemerintahan dalam kerangka NKRI disebut azas

- a. Tugas pembantuan
- b. Sentralisasi
- c. Dekonsentrasi
- d. Desentralisasi

38. Pernyataan :

1. Memiliki pendapatan asli daerah yang cukup memadai
2. Suluhr masyarakat mampu melaksanakan pemerintahan
3. Kondisi sosial budaya dan politik mendukung
4. Mendapat persetujuan menteri dalam negeri
5. Mendapat persetujuan dari DPRD setempat

Dari pernyataan di atas syarat-syarat pemekaran daerah otonomi ditunjukkan oleh nomor ...




- a. 1, 2 dan 3
- b. 2, 3 dan 4
- c. 1, 3 dan 5
- d. 3, 4 dan 5

39. Untuk menjadi calon wakil kepala daerah TK I (Wakil Gubernur), seseorang harus dicalonkan oleh

- a. Presiden
- b. DPRD
- c. Rakyat
- d. Partai politik

40. Bentuk partisipasi masyarakat dalam kebijakan publik antara lain
- Memberikan saran bila diminta oleh DPR
 - Menyampaikan aspirasi kepada wakil rakyat
 - Memberikan usulan bila menguntungkan dirinya
 - Mengadakan demonstrasi agar usulannya diterima

41. Perhatikan Gambar berikut :



1. Bumi

2. Alat Komunikasi

3. Pertumbuhan Ekonomi

4. Kendaraan

Dari gambar di atas yang merupakan 2 faktor pendorong globalisasi adalah gambar

- 1 dan 2
- 1 dan 3
- 2 dan 3
- 3 dan 4

42. Pernyataan :

- Negara Indonesia merupakan negara berkembang
- Bertujuan meningkatkan kesejahteraan rakyat
- Keinginan menjadi negara adi kuasa dan besar
- Ketidak mampuan mengelola negara
- Keterbatasan teknologi dan modal

Pernyataan di atas yang merupakan arti penting bangsa Indonesia ikut serta dalam globalisasi di tunjukkan nomor

- 1, 2 dan 3
- 2, 3 dan 4
- 1, 2 dan 5
- 3, 4 dan 5

43. Pernyataan :

- Majunya teknologi terutama dibidang informasi dan teknologi
- Masuknya budaya asing yang menjadi mode anak anak muda
- Terjadinya kesenjangan ekonomi sebagai akibat kekalahan dalam penguasaan teknologi
- Kadar dan kualitas kejahatan semakin canggih dengan bantuan teknologi informasi
- Semakin menurunnya sumber daya alam yang vital, seperti air, hutan dll

Dari pernyataan di atas, dampak negatif globalisasi dalam kehidupan masyarakat Indonesia pada nomor ...

- 1, 2 dan 3
- 2, 3 dan 4
- 1, 3 dan 5
- 3, 4 dan 5

44. Nilai budaya asing yang dapat di ambil bagi bangsa Indonesia dalam era globalisasi antara lain

- Sifat konsumtif
- Disiplin kerja
- Pemilihan langsung
- Tarian break dance

45. Ada tiga hal yang perlu diprioritaskan dalam menghadapi era globalisasi yaitu ...

a	Sumber daya manusia IPTEK keterampilan
b	IMTAK IPTEK keterampilan
c	IMTAK SDM ketampilan
d	IMTAK IPTEK SDM

46. Manfaat yang dapat di ambil dari globalisasi bagi bangsa Indonesia dalam bidang politik antara isu-isu demokrasi, hak asasi manusia serta yang tidak kalah pentingnya adalah

- Teknologi informasi
- Hubungan diplomatik
- Masalah kemanusiaan
- Politik luar negeri

47. Cara hidup yang berorientasi pada mutu atau memberikan penghargaan tinggi terhadap mutu disebut ...

- Budaya unggul
- Globalisasi budaya
- Budaya Indonesia
- Budaya Bangsa





48. Perhatikan data di bawah ini :

1	2	3	4
1. Disiplin 2. Tidak takut gagal	1. Memiliki harta 2. Selalu berdoa	1. Miliki kemampuan berfikir 2. Dapat mengenali diri	1. Menentukan potensi diri 2. Mengetahui strategi lawan

Data yang berisi kelebihan sikap dan perilaku seseorang untuk berprestasi ditunjukkan pada kolom :

- 1 dan 2
- 1 dan 3
- 2 dan 3
- 3 dan 4

49. Perhatikan gambar berikut :



Ditunjukkan oleh nomor berapakah dari empat gambar warga negara Indonesia di atas yang telah berprestasi di tingkat Internasional ?

- a. 1 dan 2
- b. 1 dan 3
- c. 2 dan 3
- d. 3 dan 4

50. Sikap yang sangat penting oleh segenap warga negara Indonesia agar cita-cita bangsa Indonesia dapat tercapai antara lain ...

- a. Bangga sebagai bangsa dan bertanah air Indonesia
- b. Menjalani kerjasama dengan negara lain yang dapat membantu Indonesia
- c. Selalu bersaing teknologi dengan negara lain yang lebih maju dari negara Indonesia
- d. Menempatkan kepentingan bangsa dan negara di atas kepentingan pribadi atau golongan

ESSAY

51. Sebutkan 3 akibat bila mengeluarkan pendapat yang dilakukan tanpa batas dan tidak bertanggung jawab !

52. Jelaskan tiga contoh sikap demokrasi dalam pelaksanaan musyawarah untuk mencapai mufakat !

53. Jelaskan 3 Pentingnya bela negara Indonesia !

54. Apa Pengertian dari politik luar negeri bebas dan aktif ?

55. Sebutkan tiga pentingnya prestasi diri bagi keunggulan bangsa Indonesia !

