



PEMERINTAH PROPINSI DAERAH KHUSUS IBUKOTA JAKARTA
DINAS PENDIDIKAN
SMP NEGERI 231 JAKARTA
3JL. Raya Tugu Semper Cilincing Telp : 021-4400643
JAKARTA UTARA

UJIAN SEKOLAH
TAHUN PELAJARAN 2011-2012

LEMBAR SOAL

Mata Pelajaran : IPS
Satuan Pendidikan : Sekolah Menengah Pertama (SMP)
Hari/Tanggal : Rabu, 28 Maret 2012
Alokasi Waktu : 10.00 – 12.00 (120 menit)

PETUNJUK UMUM

1. Tulis nomor Anda pada lembar jawaban
2. Periksalah dan bacalah soal-soal dengan teliti sebelum Anda menjawabnya
3. Dahulukan menjawab soal-soal yang Anda anggap mudah
4. Kerjakan pada lembar jawaban yang disediakan
5. Hitamkan kotak pada huruf jawaban yang Anda anggap benar dengan memakai pensil **2B**
6. Apabila ada jawaban yang akan diganti, hapuslah jawaban yang salah dengan karet penghapus sampai bersih, kemudian isi dengan jawaban yang Anda anggap benar.

Contoh :

- | | | | | |
|-----------------------|-----------------------|----------------------------------|-----------------------|----------------------------------|
| a. Sebelum di jawab | <input type="radio"/> | <input type="radio"/> | <input type="radio"/> | <input type="radio"/> |
| b. Sesudah di jawab | <input type="radio"/> | <input checked="" type="radio"/> | <input type="radio"/> | <input type="radio"/> |
| c. Sesudah diperbaiki | <input type="radio"/> | <input type="radio"/> | <input type="radio"/> | <input checked="" type="radio"/> |

PETUNJUK KHUSUS :

Soal No 1 s.d 50 hitamkanlah bulatan pada huruf a, b, c, atau d yang Anda anggap benar pada lembar jawaban, dan untuk Soal Essay nomor 51 s.d 55 kerjakan dengan benar !

1. Daftar bentuk muka bumi :

- | | |
|-------------------|-----------|
| 1. Gunung | 5. sungai |
| 2. Pegunungan | 6. laut |
| 3. Dataran rendah | 7. delta |
| 4. Dataran tinggi | 8. Danau |

Warna coklat, hijau, kuning dan biru yang digunakan pada peta atau atlas, adalah untuk menggambarkan bentuk muka bumi sesuai dengan daftar no....

- a. 1, 2, 3 dan 4
- b. 2, 3, 4 dan 6
- c. 3, 5, 6 dan 7
- d. 5, 6, 7 dan 8

2. Perhatikan daftar pernyataan berikut ini :

1. Tanahnya menjadi subur
2. Penduduk berkurang akibat bencana
3. Kesejahteraan hidup masyarakat di sekitarnya semakin meningkat
4. Dapat dikembangkan sebagai tempat wisata
5. Kehidupan sosial menurun yang disebabkan oleh jumlah penduduk yang sedikit

Dari pernyataan tersebut di atas yang merupakan dampak positif dari gunung berapi ditunjukkan pada nomor

- a. 1, 2, dan 3
- b. 2, 3 dan 4
- c. 1, 3 dan 4
- d. 3, 4 dan 5

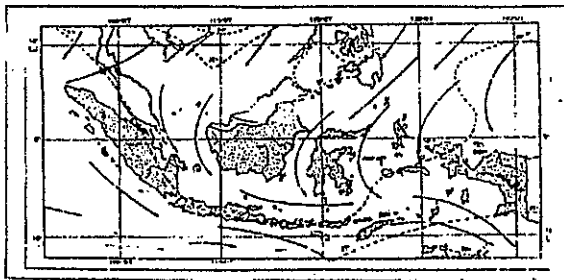
3. Perhatikan pernyataan di bawah ini :

1. Mengetahui waktu jarak tempuh suatu daerah
2. Menunjukkan posisi atau lokasi suatu tempat dipermukaan bumi
3. Menunjukkan tingkat kesuburan dan tinggi rendahnya temperatur udara suatu daerah
4. Memberikan informasi tentang bentuk dan luas suatu kenampakan permukaan bumi

Dari pernyataan di atas yang merupakan fungsi atau kegunaan peta ditunjukkan pada nomor

- a. 1, 2
- b. 2, 3
- c. 2, 4
- d. 3, 4

4.



Berdasarkan pola angin pada gambar diatas, Indonesia mengalami musim ...

- a. Penghujan
- b. Kemarau
- c. Dingin
- d. Panas

5. Perhatikan daftar faktor pendorong dan penghambat kelahiran berikut ini :

1. Kawin pada usia muda
2. Adanya program KB
3. Adanya pembatasan tunjangan anak bagi PNS
4. Adanya anggapan bahwa banyak anak banyak rejeki
5. Rendahnya mutu kesehatan


Dari pernyataan diatas yang merupakan faktor penghambat kelahiran adalah nomor

- a. 1 dan 2
- b. 2 dan 3
- c. 3 dan 4
- d. 4 dan 5

6. Salahsatu upaya yang dilakukan pemerintah untuk menanggulangi ledakan penduduk adalah

- a. Pelaksanaan urbanisasi dan emigrasi
- b. Pelaksanaan transmigrasi
- c. Pelaksanaan KB (Keluarga Berencana)
- d. Memajukan tingkat kesejahteraan masyarakat perkotaan sebagai pendorong urbanisasi

7.



Yang bukan merupakan faktor penyebab terjadinya banjir atau kerusakan lingkungan alam seperti gambar di atas adalah

- a. Membuang sampah dikali
- b. Membangun rumah dibantaran kali
- c. Menanam pohon atau reboisasi
- d. Penebangan kayu di hutan secara liar

8.



Padatnya penduduk perkotaan seperti yang terlihat pada gambar di atas adalah merupakan dampak negatif dari

- a. Transmigrasi
- b. Urbanisasi
- c. Westernisasi
- d. Reboisasi

9. Keadaan suatu negara :

1. Pertumbuhan penduduk tinggi
2. Pendapatan perkapita rendah
3. Angka harapan hidup tinggi
4. Tingkat pendidikan tinggi

Ciri-ciri keadaan penduduk negara berkembang di tunjukkan pada nomor

- a. 1 dan 2
- b. 2 dan 3
- c. 1 dan 3
- d. 2 dan 4

10. Gbr. Benua Amerika



Pada gambar di atas, negara berkembang ditunjukkan dengan nomor

- a. 1 dan 2
- b. 2 dan 3
- c. 3 dan 4
- d. 4 dan 5

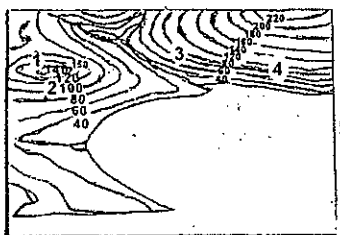
11. Perhatikan tabel nama negara-negara di bawah ini :

I	II	III	IV
India	Belanda	Indonesia	Amerika
Cina	Jepang	Inggris	Afganistan
Filipina	Singapura	Italia	Australia
Pakistan	Prancis	Irlandia	Austria

Negara berkembang pada tabel di atas ditunjukkan pada nomor

- a. I
- b. II
- c. III
- d. IV

12.



Arah lintasan mendaki puncak ketinggian paling sulit seperti gambar di atas adalah yang bertanda

- a. 1
- b. 2
- c. 3
- d. 4

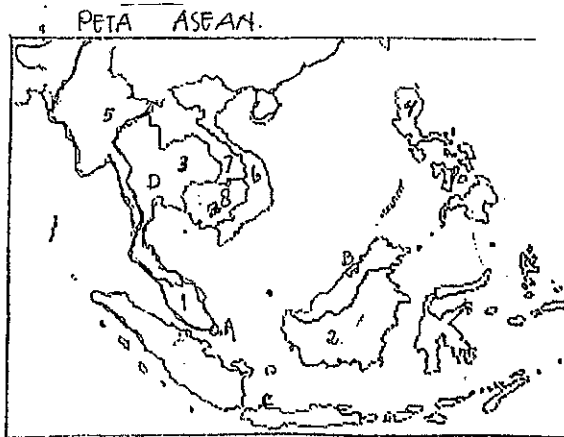
13. Karakteristik negara :

- 1. Tidak memiliki lautan
- 2. Sebagian besar masyarakat beragama Budha
- 3. Tingkat kesejahteraan hidup masyarakat rendah
- 4. Bahasa resmi yang digunakan adalah bahasa Lao

Negara di kawasan Asia tenggara yang memiliki karakteristik seperti tersebut di atas adalah negara

- a. Myanmar
- b. Indonesia
- c. Brunei Darusalam
- d. Laos

14.



Berdasarkan peta di atas, negara-negara di kawasan Asia tenggara yang merupakan negara kepulauan ditunjukkan pada nomor

- a. 1, 2, 4
- b. 1, 3, 6
- c. 3, 4, 5
- d. 5, 6, 7


15. Ciri-ciri samudera :

- 1. Merupakan samudra terluas di dunia
- 2. Diapit oleh benua Asia, Amerika dan Australia
- 3. Banyak memiliki palung laut
- 4. Dikelilingi banyak gunung berapi

Berdasarkan ciri-ciri di atas, merupakan karakteristik dari samudra

- a. Hindia
- b. Arktik
- c. Atlantik
- d. Pasipik

16.



Dari gambar-gambar peralatan kehidupan pra aksara di atas yang merupakan peralatan manusia pada masa paleolitikum (zaman batu tua) ditunjukkan pada nomor

- a. I
- b. II
- c. III
- d. IV



17.



Lokasi yang terdapat banyak peninggalan kerajaan Hindu, Budha terdapat di pulau yang ditunjukkan pada nomor

- a. 1
- b. 2
- c. 3
- d. 4

18.



Dari hasil gambar-gambar masjid yang merupakan kebudayaan kerajaan Islam di Jawa, bahwa masjid tersebut memiliki ciri-ciri

- a. Berpagar tinggi dan berhalaman luas
- b. Memiliki atap bersusun dan selalu bertingkat membentuk kerucut
- c. Selalu terdapat pagar keliling dan terdapat serambi
- d. Selalu terdapat aula yang besar untuk kegiatan pembelajaran budaya Islam

19. Cara-cara yang digunakan bangsa Belanda untuk menguasai Indonesia diantaranya dengan melakukan tindakan

- a. Monopoli perdagangan, kekerasan dan paksaan
- b. Perdagangan barter serta melakukan campur tangan dalam kerajaan
- c. Bersekutu dengan bangsa-bangsa Eropa lainnya dalam usaha perebutan wilayah
- d. Menguasai pelabuhan-pelabuhan penting dan kantor-kantor pusat telekomunikasi

20.



Gambar di atas adalah salah satu anggota Empat Serangkai, pemimpin organisasi “Pusat Tenaga Rakyat (PUTERA) yang bernama

- a. Ir Soekarno
 - b. Drs. Moh Hatta
 - c. Ki Hajar Dewantara
 - d. KH Mas Mansur
21. Contoh dukungan daerah terhadap usaha untuk kembali ke bentuk NKRI adalah
- a. Pemogokan masal para pekerja perusahaan daerah milik Belanda
 - b. Para pemimpin RIS menuntut pembubaran RIS pada Ratu Belanda
 - c. Rakyat di berbagai daerah melintas batas minta suaka politik pada pemimpin negara RI
 - d. Demontrasi di berbagai daerah yang menuntut kembali ke NKRI karena RIS tidak sesuai dengan cita-cita proklamasi 17-8-1945
22. Hasil sidang BPUPKI tanggal 29 Mei – 1 Juni 1945 adalah
- a. Menyusun dasar negara
 - b. Menyusun teks proklamasi
 - c. Menyusun Undang-undang dasar negara
 - d. Menyusun teks lagu kebangsaan negara

23.



Gambar di atas adalah tokoh pendiri partai Nazi di Jerman yang sangat berpengaruh pada perang dunia II yang bernama

- a. Kaisar Hirohito
 - b. Julius Caesar
 - c. Adolf Hitler
 - d. Benito Andreas Mussolini
24. Penyebab terjadinya peristiwa pertempuran 10 Nopember 1945 di Surabaya adalah ...
- a. Sekutu membantu tentara Jepang untuk menguasai kembali kota Surabaya
 - b. Penurunan bendera Belanda di atas hotel Yamato di Surabaya
 - c. Sekutu, Belanda dan sisa-sisa tentara Jepang di Surabaya melakukan tindakan provokatif
 - d. Terbunuhnya Jendral AWS Mallaby dan penolakan ultimatum dari sekutu tentang perintah penyerahan senjata

25. Yang merupakan hasil Konfrensi Meja Bundar (KMB) adalah
- Belanda mengakui kedaulatan RI yang meliputi Jawa, Sumatra dan Madura
 - Dibentuk garis demokrasi atau garis batas wilayah kekuasaan
 - Masalah Irian Barat akan diselesaikan setahun setelah pengakuan kedaulatan
 - Belanda menyetujui Indonesia kembali ke bentuk negara kesatuan RI
26. Tujuan diselenggarakannya Pemilu I tahun 1955 adalah untuk
- Memilih anggota MPR
 - Memilih presiden dan wakil presiden
 - Memilih anggota Komite Nasional
 - Memilih anggota DPR dan anggota dewan konstituante
27. Latar belakang terjadinya perjuangan pengembalian Irian Barat adalah karena
- Belanda mengingkari persetujuan Linggarjati dengan melakukan agresi
 - Belanda mengingkari persetujuan Renville dengan melakukan agresi II
 - Belanda menguasai seluruh sumber kekayaan alam yang ada di Irian Barat
 - Belanda mengingkari persetujuan KMB dan berusaha untuk tetap menguasai Irian Barat
- 28.



Gambar di atas adalah salahsatu korban dalam insiden pertempuran di laut Aru pada tanggal 15 Januari 1962 dalam rangka pembebasan Irian Barat yang bernama

- Komodor Yos Sudarso
 - Kapten Laut Wiratno
 - Mayjend Suharto
 - Kolonel Soedomo
29. Cara yang dilakukan pemerintah Indonesia untuk memberantas pemberontakan PKI di Madiun yaitu
- Melakukan operasi penumpasan dengan mengerahkan kekuatan TNI dan polisi yang dipimpin oleh Kol. Gatot Subroto dan Kol. Sungkono
 - Melakukan operasi pagar betis untuk mematahkan kekuatan pemberontak yang dilakukan oleh TNI
 - Membentuk operasi militer dengan pasukan khusus benteng Raiders untuk mengejar dan menangkap para pemberontak
 - Melancarkan operasi merdeka yang dipimpin oleh Letkol. Rukminto Hendroningrat
30. Pernyataan di bawah ini yang bukan merupakan penyebab runtuhnya pemerintahan Orde Baru adalah terjadinya
- Krisis ekonomi / menoeter
 - Krisis politik dan krisis kepercayaan pada pemerintah
 - Demonstrasi menuntut turunnya presiden Soeharto
 - Demonstrasi yang menuntut "TRITURA"



Berdasarkan pengamatan gambar di atas adalah merupakan contoh bentuk interaksi sosial antara

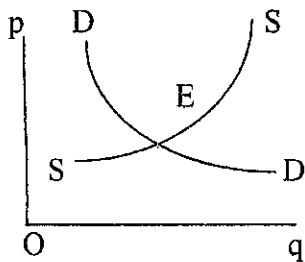
- a. Individu dengan individu
 - b. Individu dengan kelompok
 - c. Kelompok dengan kelompok
 - d. Individu dengan narasumber
32. Pernyataan di bawah ini yang bukan merupakan faktor penyebab terjadinya penyimpangan sosial adalah
- a. Pendidikan keluarga yang terlalu keras
 - b. Pengaruh lingkungan pergaulan yang kurang baik
 - c. Pengaruh media cetak atau elektronik yang bersifat nehatif
 - d. Terciptanya kondisi keluarga dan pergaulan masyarakat yang harmonis
33. Perhatikan daftar pernyataan berikut :
1. Orang tua selalu ada waktu untuk anaknya
 2. Mermbayar pajak tidak tepat pada waktunya
 3. Pergaulan bebas dan perilaku seksual diluar nikah
 4. Perkelahian pelajar dan perkelahian antar penduduk
 5. Kriminalitas dan penyalahgunaan narkoba
- Dari pernyataan di atas yang termasuk penyimpangan sosial dalam keluarga ditunjukkan oleh nomor
- a. 1 dan 2
 - b. 1 dan 3
 - c. 1 dan 4
 - d. 3 dan 5
34. Fungsi pranata keluarga paling alami adalah
- a. Mewariskan budaya
 - b. Membantu masyarakat
 - c. Membahagiakan kerabat
 - d. Mendidik dan membentuk pribadi anak
35. Pernyataan di bawah ini yang bukan merupakan faktor intern dari dalam masyarakat yang menyebabkan terjadinya perubahan sosial budaya adalah
- a. Bertambah dan berkurangnya jumlah penduduk
 - b. Adanya penemuan-penemuan baru
 - c. Adanya konflik dalam masyarakat
 - d. Adanya pengaruh budaya lain seperti difusi, akulturasi dan asimilasi

36. Perubahan perilaku masyarakat dari berjalan kaki menjadi naik kendaraan bermotor atau mobil bahkan pesawat merupakan contoh pengaruh globalisasi di bidang
- Ekonomi
 - Telekomunikasi
 - Transportasi
 - Tradisi
37. Perhatikan daftar kegiatan berikut :
- Pak Darman menjual barang dengan harga dua kali lipat dari harga beli meskipun barangnya bermutu rendah
 - Bu Halimah membeli kebutuhan sehari-hari dipasar karena harganya lebih murah
 - Gito membeli alat tulis dikoperasi sekolah karena harga lebih murah dan tidak perlu ke luar uang untuk biaya transportasi
 - Pak hardi membeli barang yang bermutu baik dan menjual kembali dengan harga yang relative murah, selisih sedikit di atas harga beli
- Pernyataan di atas yang merupakan contoh penerapan prinsip ekonomi pedagang adalah nomor
- 1
 - 2
 - 3
 - 4
38. Yang bertanggung jawab kegiatan usaha suatu perusahaan yang berbentuk CV adalah
- Pemerintah
 - Pesero aktif
 - Pesero pasif
 - Seluruh pesero
39. Sumber modal usaha bentuk Perseroan Terbatas (PT) adalah berasal dari
- Hasil penjualan sero (persero)
 - Pinjaman lunak dari negara lain
 - Simpanan anggota dan pinjaman anggota
 - Bunga giro dan deposito bank
40. Perhatikan daftar kebutuhan berikut :
- Pendidikan
 - Mobil mewah
 - Sepeda motor
 - Rumah
 - Makanan dan pakaian
 - Perhiasan emas permata
- Diantara daftar jenis kebutuhan di atas, yang termasuk pada jenis kebutuhan primer ditunjukkan nomor
- 1, 2 dan 3
 - 2, 4 dan 6
 - 1, 4 dan 5
 - 4, 5 dan 6
41. Daftar sektor usaha formal dan informal :
- PT Jasa Marga
 - Pedagang asongan
 - Pedagang kaki lima
 - Pedagang bakso keliling
 - Perusahaan Daerah Air Minum (PDAM)
 - PT Bank Central Asia (BCA)

Dari daftar di atas yang termasuk contoh sektor usaha formal ditunjukkan oleh nomor

- a. 1, 2, 3
- b. 3, 4, 5
- c. 1, 5, 6
- d. 4, 5, 6

42. Perhatikan kurve di bawah ini !



Berdasarkan kurve di atas harga pasar ditunjukkan pada titik

- a. p
- b. o
- c. q
- d. E

43. Perhatikan daftar pernyataan berikut ini :

- 1. Diterima dan dipercaya masyarakat umum
- 2. Mudah rusak dan sulit dipindahkan
- 3. Nilainya tetap dn memiliki satu kualitas
- 4. Tidak tahan lama, mudah berkarat dan nilainya tidak tetap

Dari pernyataan di atas yang merupakan syarat-syarat suatu benda yang dapat di jadikan uang adalah nomor

- a. 1 dan 2
- b. 1 dan 3
- c. 2 dan 3
- d. 3 dan 4

44. Perhatikan daftar fungsi uang berikut :

- 1. Sebagai alat satuan hitung
- 2. Sebagai alat pembayaran
- 3. Sebagai alat penyimpan kekayaan
- 4. Sebagai alat tukar yang bersifat umum

Dari daftar diatas yang merupakan fungsi asli dari uang ditunjukkan dengan nomor

- a. 1 dan 2
- b. 2 dan 3
- c. 1 dan 4
- d. 3 dan 4

45. Perhatikan daftar kegiatan bank berikut ini :

- 1. Memberikan kredit pada masyarakat luas
- 2. Mengawasi bank umum dan BPR
- 3. Menetapkan dan melaksanakan kebijakan moneter
- 4. Menerima simpanan dari masyarakat dalam bentuk giro dan deposito
- 5. Mencetak dan mengedarkan uang kartal

Dari pernyataan di atas yang merupakan tugas pokok bank sentral ditunjukkan pada nomor

- a. 1, 2 dan 3
- b. 2, 3 dan 5
- c. 2, 3 dan 4
- d. 3, 4 dan 5

46. Dampak positif dari kegiatan perdagangan internasional bagi perekonomian Indonesia adalah
- Terbentuknya pola hidup konsumtif
 - Produksi dalam negeri meningkat secara kualitatif dan kuantitatif
 - Terjadinya persaingan yang sehat sebagai pengaruh perdagangan bebas
 - Harga barang impor lebih murah sehingga bangsa Indonesia banyak konsumsi barang impor
47. Perhatikan daftar tujuan kerjasama internasional berikut ini :
- Menciptakan perdamaian dunia
 - Meningkatkan devisa negara
 - Memenuhi kebutuhan ekonomi masyarakat
 - Memperluas hubungan perdagangan antar negara
 - Meningkatkan ilmu pengetahuan dan teknologi
- Dari pernyataan di atas yang merupakan tujuan kerjasama di bidang ekonomi ditunjukkan pada nomor
- 1, 2, 3
 - 2, 3, 4
 - 2, 4, 5
 - 3, 4, 5
48. Pernyataan berikut, yang bukan merupakan tujuan OPEC adalah
- Mengatur pemasaran minyak internasional
 - Mengusahakan memenuhi kebutuhan minyak dunia
 - Menghindari persaingan yang tidak sehat diantara negara-negara penghasil minyak
 - Menguasai atau monopoli sumber daya alam minyak bumi internasional
49. Badan-badan kerja sama internasional
- WHO
 - ILO
 - IMF
 - OPEC
 - IBRD
 - UNDP
- Badan ekonomi internasional yang penting bagi bangsa Indonesia ditunjukkan pada nomor
- 1 dan 2
 - 2 dan 4
 - 3 dan 5
 - 5 dan 6
50. Manfaat utama diperoleh Indonesia dengan ikut aktif dalam kerja sama ekonomi internasional adalah
- Terpeliharanya stabilitas ekonomi
 - Sering mendapat bantuan dari luar negeri
 - Mudah untuk mendapatkan pinjaman luar negeri
 - Meningkatnya kegiatan ekspor, meningkatkan devisa negara dan memperluas jaringan pasar internasional

ESSAY

51. Pada peta pulau Jawa diketahui jarak kota Jakarta – Surabaya 4,5 cm. sedangkan skala peta tersebut 1 : 20.000.000. Hitunglah berapa jarak antara kota Jakarta – Surabaya yang sebenarnya!
52. Sebutkan 3 dampak urbanisasi bagi penduduk kota!
53. Sebutkan 3 peran Indonesia dalam ASEAN!
54. Sebutkan ciri-ciri pasar tradisional!
55. Sebutkan 4 bentuk organisasi kerjasama ekonomi internasional!